

## GIẢI BÀI TẬP TOÁN LỚP 3

### CHIA SỐ CÓ HAI CHỮ SỐ CHO SỐ CÓ MỘT CHỮ SỐ (TIẾP THEO)

**Bài 1** (trang 71 SGK Toán 3):

**Tính:**

$$\begin{array}{l} \text{a) } 77 \overline{) 2} \quad 87 \overline{) 2} \quad 86 \overline{) 6} \quad 99 \overline{) 4} \\ \text{b) } 69 \overline{) 3} \quad 85 \overline{) 4} \quad 97 \overline{) 7} \quad 78 \overline{) 6} \end{array}$$

**Hướng dẫn giải:**

$$\begin{array}{l} \text{a) } \begin{array}{r} 77 \overline{) 2} \\ 6 \overline{) 38} \\ \underline{17} \\ 16 \\ \underline{1} \end{array} \quad \begin{array}{r} 87 \overline{) 2} \\ 8 \overline{) 43} \\ \underline{07} \\ 06 \\ \underline{1} \end{array} \quad \begin{array}{r} 86 \overline{) 6} \\ 6 \overline{) 14} \\ \underline{26} \\ 24 \\ \underline{2} \end{array} \quad \begin{array}{r} 99 \overline{) 4} \\ 8 \overline{) 24} \\ \underline{19} \\ 16 \\ \underline{3} \end{array} \\ 77 : 2 = 38 \text{ (dư 1)} \quad 87 : 2 = 43 \text{ (dư 1)} \quad 86 : 6 = 14 \text{ (dư 2)} \quad 99 : 4 = 24 \text{ (dư 3)} \end{array}$$

$$\begin{array}{l} \text{b) } \begin{array}{r} 69 \overline{) 6} \\ 6 \overline{) 23} \\ \underline{09} \\ 9 \\ \underline{0} \end{array} \quad \begin{array}{r} 85 \overline{) 3} \\ 8 \overline{) 21} \\ \underline{05} \\ 4 \\ \underline{1} \end{array} \quad \begin{array}{r} 97 \overline{) 5} \\ 7 \overline{) 13} \\ \underline{27} \\ 21 \\ \underline{6} \end{array} \quad \begin{array}{r} 78 \overline{) 2} \\ 6 \overline{) 13} \\ \underline{18} \\ 18 \\ \underline{9} \end{array} \\ 69 : 3 = 23 \quad 85 : 4 = 21 \text{ (dư 1)} \quad 97 : 7 = 13 \text{ (dư 6)} \quad 78 : 6 = 13 \end{array}$$

**Bài 2** (trang 71 SGK Toán 3):

Một lớp học có 33 học sinh, phòng học của lớp đó chỉ có loại bàn 2 cho ngồi. Hỏi cần ít nhất bao nhiêu bàn học như thế ?

**Hướng dẫn giải:**

Ta có:  $33 : 2 = 16$  (dư 1)

Số bàn có 2 học sinh ngồi là 16 bàn, còn dư 1 học sinh nên cần thêm 1 bàn nữa

Vậy số bàn cần có ít nhất là:

$$16 + 1 = 17 \text{ (bàn)}$$

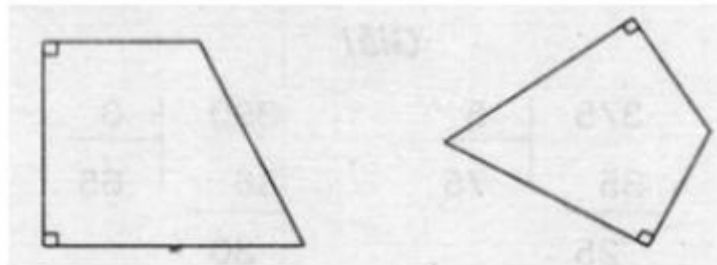
**Đáp số:** 17 bàn

**Bài 3** (trang 71 SGK Toán 3):

Vẽ 1 tứ giác có 2 góc vuông

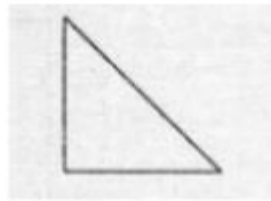
**Hướng dẫn giải:**

Học sinh dùng ê ke để vẽ góc vuông. Chẳng hạn:




**Bài 4** (trang 71 SGK Toán 3):

Cho 8 hình tam giác, mỗi hình như hình bên:



Hãy xếp thành hình vuông



**Hướng dẫn giải:**

Có thể xếp hình như sau:

