

GIẢI BÀI TẬP TOÁN LỚP 3

LUYỆN TẬP TRANG 26

Bài 1 (trang 26 SGK Toán 3):

a) Tìm $\frac{1}{2}$ của : 12 cm; 18 kg; 10 lít

b) Tìm $\frac{1}{6}$ của : 24 m; 30 giờ; 54 ngày

Đáp án:

a) $\frac{1}{2}$ của 12 cm là $12 : 2 = 6$ (cm)

$\frac{1}{2}$ của 18 kg là $18 : 2 = 9$ (kg)

$\frac{1}{2}$ của 10 lít là $10 : 2 = 5$ (lít)

b) $\frac{1}{6}$ của 24 m là $24 : 6 = 4$ (m)

$\frac{1}{6}$ của 30 giờ là $30 : 6 = 5$ (giờ)

$\frac{1}{6}$ của 54 ngày là $54 : 6 = 9$ (ngày)

Bài 2 (trang 27 SGK Toán 3):

Vân làm được 30 bông hoa bằng giấy, Vân tặng bạn $\frac{1}{6}$ số bông hoa đó. Hỏi Vân tặng bạn bao nhiêu bông hoa?

Đáp án:

Vân tặng bạn số bông hoa là:

$30 : 6 = 5$ (bông hoa)

Đáp số: 5 bông hoa

Bài 3 (trang 27 SGK Toán 3):

Có 28 học sinh đang tập bơi, $\frac{1}{4}$ số học sinh đó là học sinh lớp 3A. Hỏi lớp 3A có bao nhiêu học sinh đang tập bơi?

Đáp án:

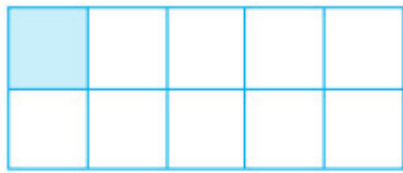
Số học sinh lớp 3A đang tập bơi là:

$28 : 4 = 7$ (học sinh)


Đáp số: 7 học sinh

Bài 4 (trang 27 SGK Toán 3):

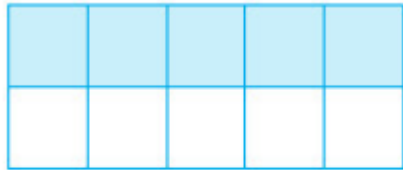
Đã tô màu $\frac{1}{5}$ số ô vuông của hình nào?



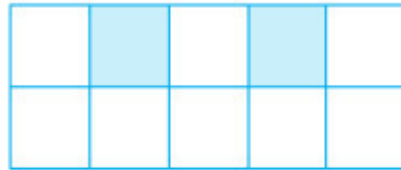
Hình 1



Hình 2



Hình 3



Hình 4

Đáp án:

Nhận xét: - mỗi hình đã cho đều có 10 ô vuông.

$\frac{1}{5}$ số ô vuông của mỗi hình gồm : $10 : 5 = 2$ (ô vuông)

Hình 2 và hình 4 có 2 ô vuông đã tô màu.

Vậy đã tô màu vào $\frac{1}{5}$ số ô vuông của hình 2 và hình 4