


GIẢI BÀI TẬP TOÁN LỚP 3

ÔN TẬP VỀ GIẢI TOÁN TRANG 12 SÁCH GIÁO KHOA

Bài 1 (trang 13 SGK Toán 3): Đồng hồ chỉ mấy giờ?



Đáp án:

Đồng hồ A chỉ 4 giờ 5 phút

Đồng hồ D chỉ 6 giờ 15 phút

Đồng hồ B chỉ 4 giờ 10 phút

Đồng hồ E chỉ 7 giờ rưỡi

Đồng hồ C chỉ 4 giờ 25 phút

Đồng hồ G chỉ 12 giờ 35 phút

Bài 2 (trang 13 SGK Toán 3):

Quay kim đồng hồ để đồng hồ chỉ:

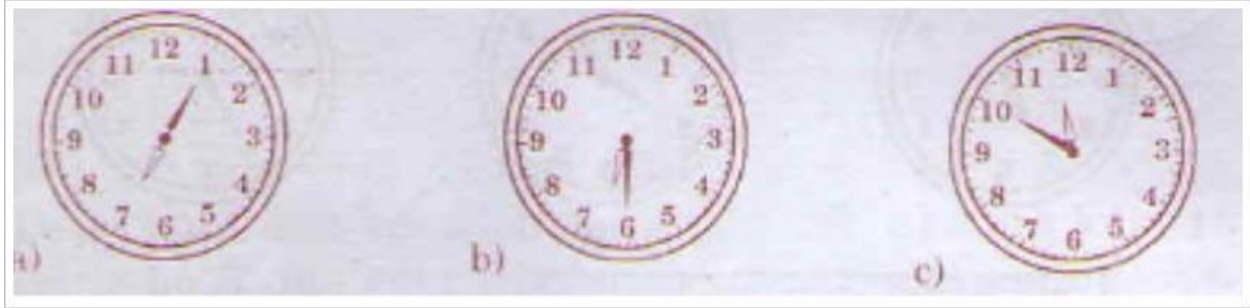
a) 7 giờ 5 phút

b) 6 giờ rưỡi

c) 11 giờ 50 phút

Đáp án:

Quay kim đồng hồ và đặt như sau:



Bài 3 (trang 13 SGK Toán 3): Đồng hồ chỉ mấy giờ?

Đáp án:

Đồng hồ A chỉ 5 giờ 20 phút

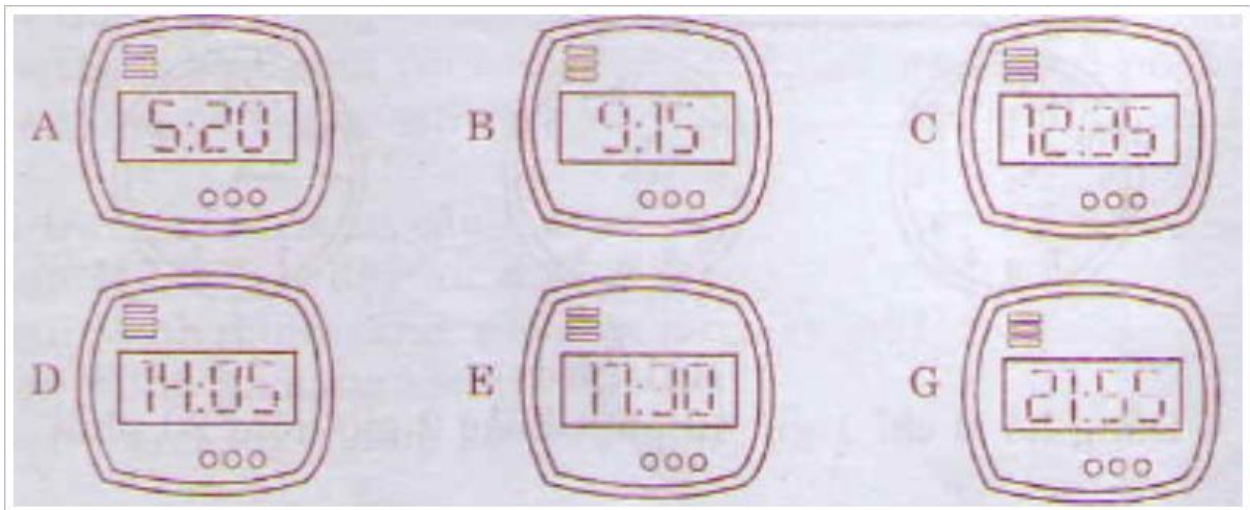
Đồng hồ D chỉ 14 giờ 05 phút

Đồng hồ B chỉ 9 giờ 15 phút

Đồng hồ E chỉ 17 giờ 30 phút

Đồng hồ C chỉ 12 giờ 35 phút

Đồng hồ G chỉ 21 giờ 55 phút



Bài 4 (trang 14 SGK Toán 3): Vào buổi chiều, hai đồng hồ nào chỉ cùng thời gian?

Đáp án:

Vào buổi chiều, các đồng hồ chỉ cùng thời gian là:

+ đồng hồ A và đồng hồ B (cùng chỉ 4 giờ)

+ đồng hồ C và đồng hồ G (cùng chỉ 4 giờ rưỡi)

+ đồng hồ D và đồng hồ E (cùng chỉ 1 giờ 25 phút)