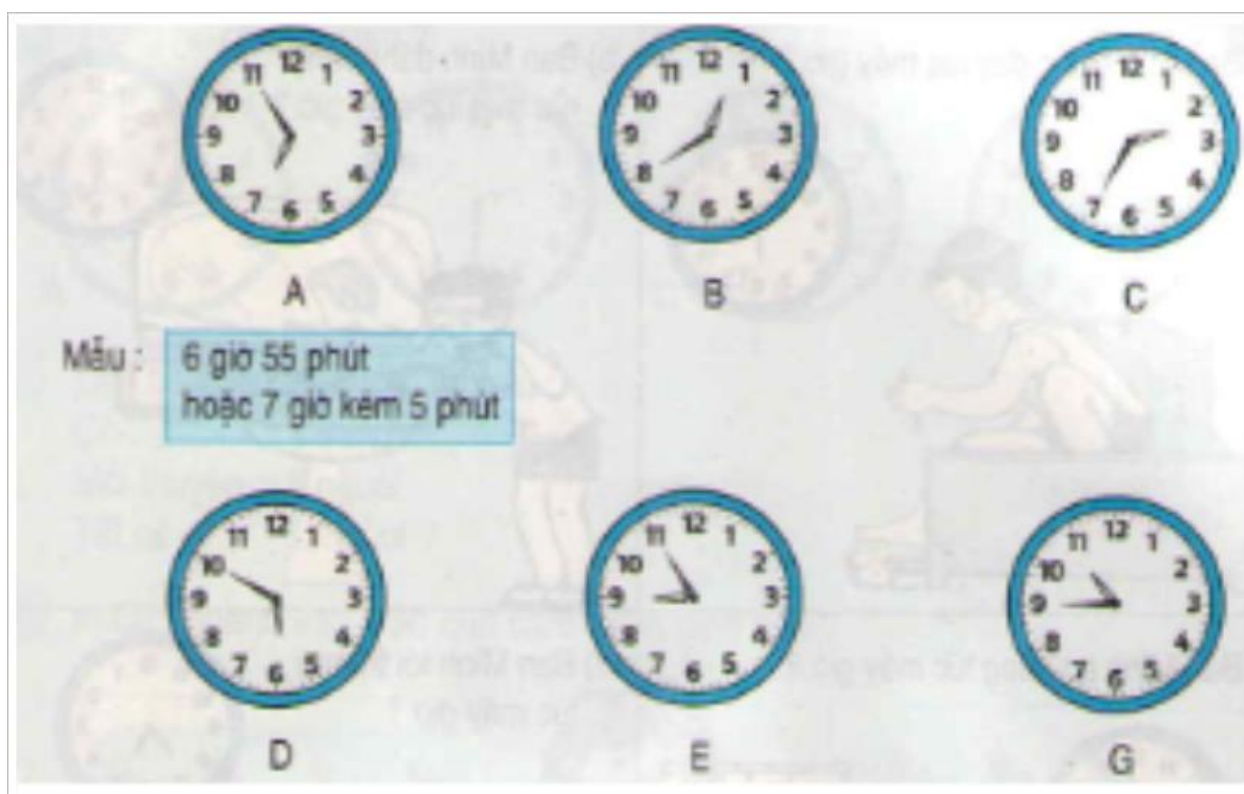


GIẢI BÀI TẬP TOÁN LỚP 3

GIẢI BÀI TOÁN VỀ ĐỒNG HỒ (TIẾP THEO)

Bài 1 (trang 15 SGK Toán 3):



Đáp án:

- + Đồng hồ B chỉ 12 giờ 40 phút hoặc 1 giờ kém 20 phút.
- + Đồng hồ C chỉ 2 giờ 35 phút hoặc 3 giờ kém 25 phút.
- + Đồng hồ D chỉ 5 giờ 50 phút hoặc 6 giờ kém 10 phút.
- + Đồng hồ E chỉ 8 giờ 55 phút hoặc 9 giờ kém 5 phút.
- + Đồng hồ G chỉ 10 giờ 45 phút hoặc 11 giờ kém 15 phút.

Bài 2 (trang 15 SGK Toán 3):


Quay kim đồng hồ để đồng hồ chỉ:

- 3 giờ 15 phút
- 9 giờ kém 10

c) 4 giờ kém 5 phút

Đáp án:

Quay và đặt kim đồng hồ như sau:



Bài 3 (trang 15 SGK Toán 3):

Mỗi đồng hồ ứng với cách đọc nào:

- a) 3 giờ 5 phút
- b) 4 giờ 15 phút
- c) 7 giờ 20 phút
- d) 9 giờ kém 15 phút
- e) 10 giờ kém 10 phút
- g) 12 giờ kém 5 phút

Đáp án:

Đồng hồ A ứng với cách đọc.....d) 9 giờ kém 15 phút

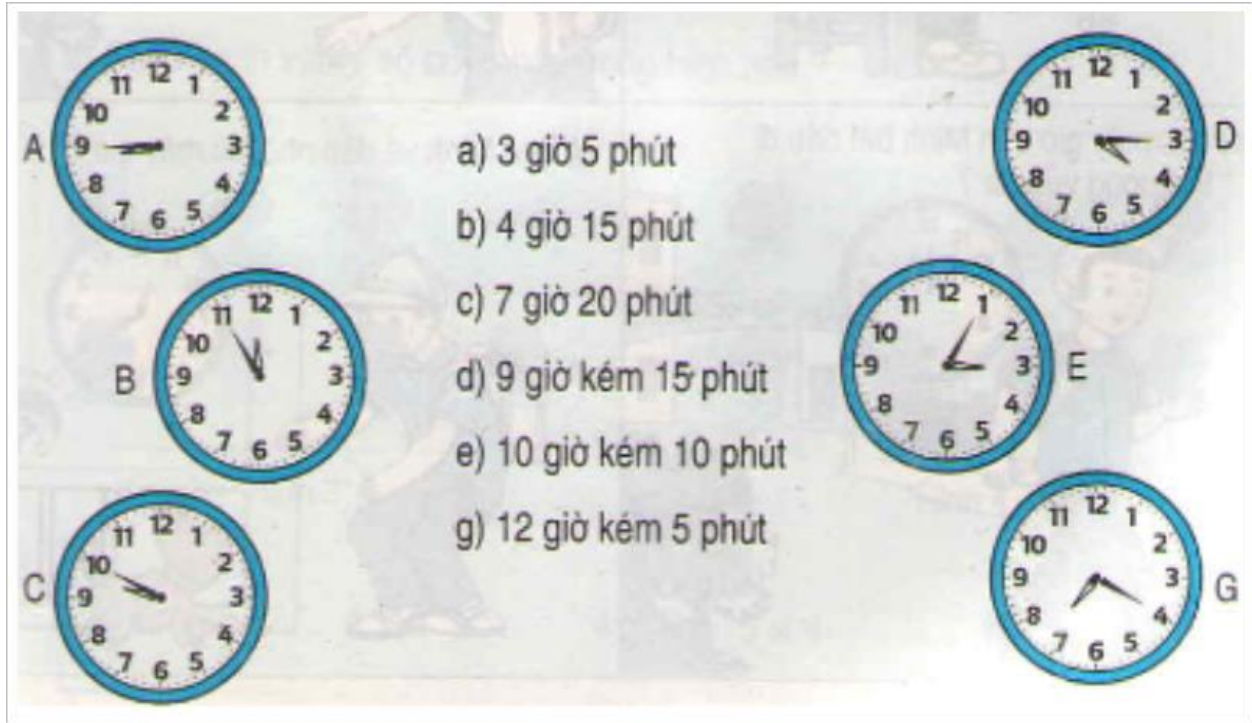
Đồng hồ B ứng với cách đọc.....d) 12 giờ kém 5 phút

Đồng hồ C ứng với cách đọc.....e) 10 giờ kém 10 phút

Đồng hồ D ứng với cách đọc.....b) 4 giờ 15 phút

Đồng hồ E ứng với cách đọc.....a) 3 giờ 5 phút

Đồng hồ G ứng với cách đọc.....c) 7 giờ 20 phút



Bài 4 (trang 16 SGK Toán 3):

Xem tranh SGK (trang 16) rồi trả lời câu hỏi:

- a) Bạn Minh thức dậy lúc mấy giờ?
- b) Bạn Minh đánh răng, rửa mặt lúc mấy giờ?
- c) Bạn Minh ăn sáng lúc mấy giờ?
- d) Bạn Minh tới trường lúc mấy giờ?
- e) Lúc mấy giờ bạn Minh bắt đầu đi từ trường về nhà?
- g) Bạn Minh về đến nhà lúc mấy giờ?

Đáp án:

- a) Bạn Minh thức dậy lúc 6 giờ 15 phút
- b) Bạn Minh đánh răng, rửa mặt lúc 6 giờ rưỡi
- c) Bạn Minh ăn sáng lúc 7 giờ kém 15 phút
- d) Bạn Minh tới trường 7 giờ 25 phút
- e) Bạn Minh bắt đầu đi từ trường về nhà lúc 11 giờ
- g) Bạn Minh về đến nhà lúc 11 giờ 20 phút